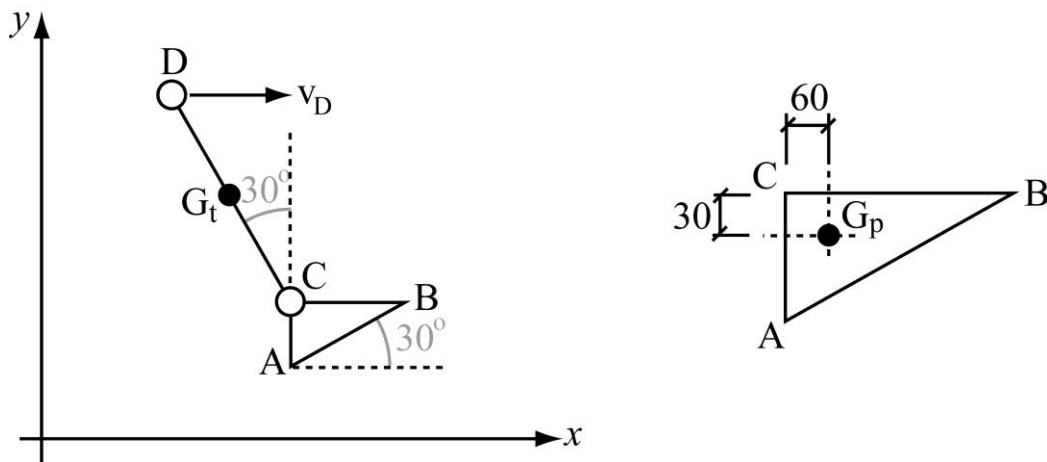


La figura de la izquierda muestra un modelo plano de pie y tibia, con $AB = 200$ mm y $CD = 400$ mm. En el instante representado, el punto D (rodilla) posee una velocidad horizontal de 1 m/s constante, el punto C (tobillo) posee una velocidad con componente horizontal de 0.6536 m/s y componente vertical de -0.2 m/s, y una aceleración con componente horizontal -0.2 m/s² y componente vertical 0.3464 m/s², y el pie posee una velocidad angular entrante de 2 rad/s y una aceleración angular saliente de 1 rad/s², estando AC vertical y BC horizontal.

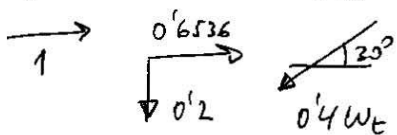


- Si en el sistema de referencia (x,y) las distancias se miden en mm, y las coordenadas del punto D son $(300,600)$, determinar las coordenadas de los puntos A, B y C.
- ¿Qué ángulo forma la tibia, CD, con la planta del pie, AB? ¿Hay flexión dorsal o flexión plantar en el tobillo?
- Obtener la velocidad angular de la tibia en rad/s, indicando si es saliente o entrante, y la velocidad de la punta del pie, punto B, en m/s, indicando sus componentes x e y .
- Obtener la aceleración angular de la tibia en rad/s², indicando si es saliente o entrante, y la aceleración de la punta del pie, punto B, en m/s², indicando sus componentes x e y .
- Si para el pie se desprecia el efecto de las fuerzas de inercia pero no el efecto del peso, y sabiendo que la masa del pie es de 1.2 kg, y que el centro de masas del pie se halla donde se indica en la figura de la derecha, determinar las reacciones, en N, y el par, en Nm, en el tobillo (punto C). Tomar $g = 10$ m/s².

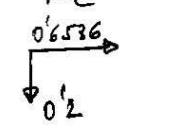
f) Si para la tibia se tienen en cuenta tanto el peso como las fuerzas de inercia, y sabiendo que la masa de la tibia es de 7 kg, y que el centro de masas de la tibia está en mitad de la misma, según se indica en la figura de la izquierda, determinar las reacciones, en N, y el par, en Nm, en la rodilla (punto D). Tomar $g = 10 \text{ m/s}^2$.

$$\begin{aligned}
 a) \quad C(300 + 400 \tan 30, 600 - 400 \cot 30) &= C(500, 253.59) \\
 B(500 + 200 \cot 30, 253.59) &= B(673.21, 253.59) \\
 A(500, 253.59 - 200 \tan 30) &= A(500, 123.59)
 \end{aligned}$$

b) Ángulo de 90° . No hay flexión dorsal ni plantar.

$$N_D = N_C + N_{D/C} \Rightarrow \begin{Bmatrix} 1 \\ 0 \end{Bmatrix} = \begin{Bmatrix} 0.6536 \\ -0.2 \end{Bmatrix} + \begin{Bmatrix} -0.4 \omega_t \cot 30 \\ -0.4 \omega_t \tan 30 \end{Bmatrix}$$


$\omega_t = -1 \Rightarrow \boxed{\omega_t = 1 \frac{\text{rad}}{\text{s}} \text{ entr}} \curvearrowright$

$$N_B = N_C + N_{B/C} = \begin{Bmatrix} 0.6536 \\ -0.2 \end{Bmatrix} + \begin{Bmatrix} 0 \\ -0.3464 \end{Bmatrix} =$$


$\downarrow W_{pCB} =$
 $= 2 \times 0.2 \cot 30 =$
 $= 0.3464$

$$= \begin{Bmatrix} 0.6536 \\ -0.5464 \end{Bmatrix} = N_B$$

$$d) \quad a_D = a_C + (a_{D/C})_n + (a_{D/C})_t$$



$$\begin{aligned}
 \omega_t^2 CD &= \\
 &= 1^2 \times 0.4 = 0.4
 \end{aligned}$$

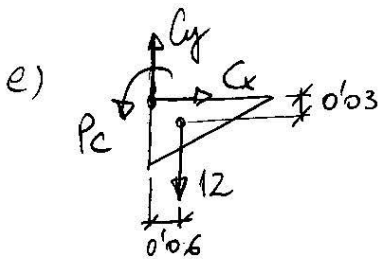
$$\begin{Bmatrix} 0 \\ 0 \end{Bmatrix} = \begin{Bmatrix} -0.2 \\ 0.3464 \end{Bmatrix} + \begin{Bmatrix} 0.4 \alpha_t \cot 30 \\ -0.4 \alpha_t \tan 30 \end{Bmatrix} + \begin{Bmatrix} -0.4 \alpha_t \cot 30 \\ -0.4 \alpha_t \tan 30 \end{Bmatrix}$$

$$\boxed{\alpha_t = 0 \frac{\text{rad}}{\text{s}^2}}$$

$$a_B = a_C + (a_{B/C})_n + (a_{B/C})_t =$$

$$\begin{array}{l} \left. \begin{array}{l} \begin{array}{l} \uparrow 0'3464 \\ \leftarrow 0'2 \end{array} \\ \omega_{P^{CB}}^2 = \\ = 2^2 \times 0'2 \cos 30 = \\ = 0'6928 \end{array} \right\} \begin{array}{l} \uparrow a_{P^{CB}} = \\ = 1 \times 0'2 \cos 30 = \\ = 0'1732 \end{array} \end{array}$$

$$= \begin{Bmatrix} -0'2 \\ 0'3464 \end{Bmatrix} + \begin{Bmatrix} -0'6928 \\ 0 \end{Bmatrix} + \begin{Bmatrix} 0 \\ 0'1732 \end{Bmatrix} = \boxed{\begin{Bmatrix} -0'8928 \\ 0'5196 \end{Bmatrix}} = a_B$$



$$\boxed{C_x = 0}$$

$$\boxed{C_y = 12 \text{ N}}$$

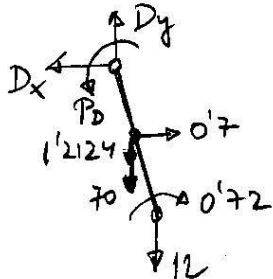
$$P_c = 12 \times 0'06 = \boxed{0'72 \text{ Nm} = P_c}$$

f)

$$a_{Gt} = a_D + (a_{Gt/D})_n + (a_{Gt/D})_t = \begin{Bmatrix} -0'1 \\ 0'1732 \end{Bmatrix}$$

$$\omega_{Gt/D}^2 = 1^2 \times 0'2 = 0'2$$

$$\begin{cases} F_{in} = -m_t a_{Gt} = -7 \begin{Bmatrix} -0'1 \\ 0'1732 \end{Bmatrix} = \begin{Bmatrix} 0'7 \\ -1'2124 \end{Bmatrix} \\ N_{in} = 0 \end{cases}$$



$$\boxed{D_x = 0'7 \text{ N}}$$

$$D_y = 70 + 12 + 1'2124 = \boxed{83'21 \text{ N} = D_y}$$

$$P_D = 0'72 + 12 \times 0'4 \sin 30 + 7 \times 1'2124 \times 0'2 \sin 30 - 0'7 \times 0'2 \cos 30 = \boxed{10'12 \text{ Nm} = P_D}$$